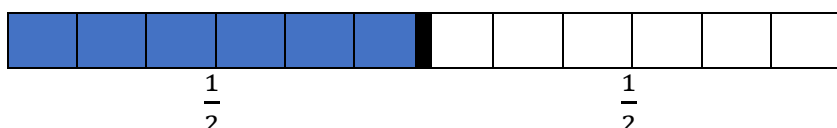


## EXPLICATIONS SUR LES EXERCICES SUR LES FRACTIONS

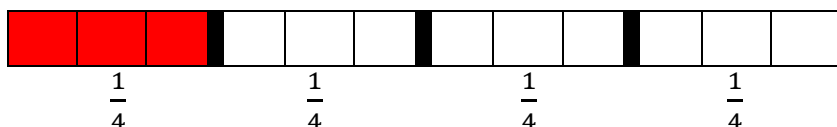
Prenons comme référence une unité de 12 carreaux. L'idéal est de faire tout l'exercice sur la même bande mais ils peuvent s'aider en faisant 1 bande pour chaque question.




Si je demande de colorier  $\frac{1}{2}$  en bleu, ça signifie que l'unité va être coupée en 2 et qu'on va colorier 1 « morceau ». Si je coupe 12 carreaux en 2, j'obtiens 6 carreaux



Si je demande de colorier  $\frac{1}{4}$  en rouge, ça signifie que l'unité va être coupée en 4 et qu'on va colorier 1 « morceau ». Si je coupe 12 carreaux en 4, j'obtiens 3 carreaux



Soit :



Je peux aussi demander sous forme de carré de 6 carreaux de côté, si je demande  $\frac{1}{2}$ , il y aura plusieurs possibilités de présentation mais il faudra toujours colorier 18 carreaux :

